

## ข้อสอบมาตรฐานชั้นปี

### กลุ่มสาระการเรียนรู้ การงานอาชีพและเทคโนโลยี ชั้นประถมศึกษาปีที่ 3

- คำชี้แจง :
1. แบบทดสอบชุดนี้เป็นแบบทดสอบวัดผลสัมฤทธิ์ตามมาตรฐานการเรียนรู้ มี 2 ชุด ชุดละ 40 ข้อ เป็นแบบเลือกตอบ มี 4 ตัวเลือก
  2. ให้นักเรียนเลือกคำตอบที่ถูกต้องที่สุดเพียงคำตอบเดียว โดยกา **X** ทับตัวอักษรลงในกระดาษคำตอบที่ตรงกับตัวเลือกที่ต้องการ

#### ชุดที่ 1

เวลาทำข้อสอบ 50 นาที

1. ถ้าไม่มีไม้กวาดหยากใยสำหรับกวาดหยากใย ควรทำอะไร  
ก. ต่อก้านให้สูงขึ้นแล้วขึ้นไปยืนกวาด  
ข. ใช้ไม้ตอกกับไม้กวาดดอกหญ้า  
ค. บอกให้ผู้ใหญ่กวาด  
ง. ไม่ต้องกวาด
2. พื้นกระเบื้องยางที่เปื้อนคราบน้ำมัน ควรทำความสะอาดอย่างไร  
ก. ใช้ผ้าชุบน้ำเช็ด  
ข. ใช้แปลงทองเหลืองขัด  
ค. ล้างด้วยน้ำร้อน  
ง. ใช้ฟองน้ำชุบน้ำผสมผงซักฟอกถู
3. หลังจากทำความสะอาดพื้นห้องน้ำที่เป็นซีเมนต์แล้ว แต่ยังมีน้ำขังอยู่ ควรแก้ไขอย่างไร  
ก. ใช้ไม้กวาดทางมะพร้าวกวาดให้แห้ง  
ข. ใช้ไม้กวาดดอกหญ้ากวาดให้แห้ง  
ค. ใช้ผ้าแห้งถูให้สะอาด  
ง. ใช้ผ้าชุบน้ำเช็ดออก
4. การเลือกเสื้อผ้าเพื่อสวมใส่ออกนอกบ้าน ควรคำนึงถึงสิ่งใด  
ก. ค่าใช้จ่ายในการเดินทาง  
ข. พาหนะที่ใช้เดินทาง  
ค. สถานที่ที่จะไป  
ง. จำนวนคนที่จะไป
5. ในฤดูหนาวควรใส่เสื้อผ้าอะไร จึงจะอบอุ่น  
ก. เสื้อขาว                      ข. เสื้อชมพู  
ค. เสื้อฟ้าอ่อน                  ง. เสื้อน้ำเงิน
6. วิธีการปรุงอาหารข้อใดใช้เวลาในการทำ โดยเรียงจากน้อยไปหามาก  
ก. ลวก – ทอด – ต้ม – นึ่ง  
ข. ทอด – ลวก – นึ่ง – ต้ม  
ค. ต้ม – นึ่ง – ทอด – ลวก  
ง. นึ่ง – ต้ม – ลวก – ทอด

7. ข้อใดควรปฏิบัติเมื่อลูกจากโต๊ะอาหาร
- ยกเก้าอี้ไปไว้ที่อื่น
  - ยกเก้าอี้คว่ำเก็บบนโต๊ะ
  - เลื่อนเก้าอี้สอดชิดขอบโต๊ะ
  - เลื่อนเก้าอี้ไปชิดกับเก้าอี้ของคนอื่น
8. ถ้ามีอาหารที่เหลือจากรับประทาน นักเรียนควรทำอย่างไร
- นำไปตักแคะ
  - ใส่หม้อปิดฝาให้มิดชิด
  - เททิ้งลงในถังขยะ
  - อุ่นให้เดือด ทิ้งให้เย็น แล้วนำไปไว้ในตู้เย็น
9. การทำน้ำผลไม้ ควรปฏิบัติอย่างไรเป็นขั้นตอนแรก
- คั้นน้ำผลไม้
  - ทุบน้ำแข็งใส่แก้ว
  - ล้างทำความสะอาดผลไม้
  - เตรียมน้ำเชื่อม
10. อุปกรณ์ข้อใดเหมาะสมสำหรับนำไปใช้ในการประกอบอาหารแบบผัด
- กระทะกับทัพพี
  - กระทะกับตะหลิว
  - หม้อกับตะหลิว
  - หม้อกับทัพพี
11. ผลไม้ตากแห้งชนิดใด ไม่นิยมนำมาทำน้ำผลไม้
- ลูกเกด
  - กล้วยตาก
  - ลูกพรุน
  - มะตูมแห้ง
12. เครื่องมือข้อใดเหมาะสำหรับใช้ในการแยกหน่อกล้วยไปปลูก
- เลียม
  - จอบ
  - พลั่ว
  - ช้อนปลูก
13. ถ้าทิ้งกรรไกรตัดหญ้าให้ตากฝนบ่อยๆ จะเกิดผลเสียต่อกรรไกรอย่างไร
- นอตหลุดง่าย
  - ด้ามหลุดง่าย
  - เป็นสนิมได้ง่าย
  - ทื่อไม่คม
14. ผักในข้อใดที่นำไปและลำต้นมาเป็นอาหาร
- คะน้า
  - ตะไคร้
  - แครอท
  - กระชาย
15. การเพาะเมล็ดแบบต้นเดียวควรทำในที่ใด
- บนฟางหรือหญ้าแห้ง
  - พื้นที่ยกแปลง
  - กระบะ
  - ถุงพลาสติก
16. เมื่อดันพีชที่ปลูกออกดอกออกผลแล้ว ขั้นตอนต่อไปควรทำอย่างไร
- ขยายพันธุ์
  - เก็บเกี่ยว
  - เพาะพันธุ์
  - เผาทิ้ง

17. การเลี้ยงสัตว์เพื่อใช้เป็นอาหาร ควรเลือกสัตว์  
ลักษณะใดมาเลี้ยง
- สัตว์ที่มักตายง่าย
  - สัตว์ที่พิการเล็กน้อย
  - สัตว์ที่มีสุขภาพแข็งแรง
  - สัตว์ที่เป็นโรคได้ง่าย
18. ข้อใดไม่ใช่ปัจจัยที่ทำให้สัตว์เลี้ยง  
เจริญเติบโต
- น้ำ
  - อาหาร
  - อากาศ
  - ง. เครื่องนุ่งห่ม
19. สุ่ม เป็นที่อยู่ของสัตว์ชนิดใด
- หมู
  - ไก่
  - ปลา
  - ง. นก
20. เกษตรกรเลี้ยงควาย เพื่อนำไปใช้ประโยชน์ใน  
ข้อใด
- เพื่อไถนา
  - เพื่อเป็นอาหาร
  - เพื่อใช้ลากซุง
  - ง. เพื่อใช้เป็นพาหนะ
21. งานช่างประเภทใด ที่ทำงานเกี่ยวกับการ  
ซ่อมแซมวิทยุ
- ช่างไม้
  - ช่างไฟฟ้า
  - ช่างก่อสร้าง
22. ช่างเย็บผ้าใช้เครื่องมือชนิดใดในการวัด  
ขนาดเสื้อผ้า
- ไม้เมตร
  - ไม้บรรทัด
  - สายวัด
  - ง. ตลับเมตร
23. ใครดูแลรักษาเครื่องมือช่างไม่ถูกต้อง
- สวมซ่อมแซมเครื่องมือช่างก่อน  
นำไปเก็บ
  - นุ้ยเก็บเครื่องมือใส่กล่องอย่าง  
เรียบร้อย
  - จำกัดตรวจสอบเครื่องมือก่อนใช้  
ทุกครั้ง
  - ง. แป้งล้างเครื่องมือที่เป็นโลหะด้วย  
น้ำสะอาด
24. วัสดุที่ใช้ในงานประดิษฐ์ข้อใด  
มีแหล่งที่มา ต่างจาก ข้ออื่นๆ
- ใบไม้
  - เกล็ดปลา
  - กระป๋องน้ำอัดลม
  - ง. เปลือกหอย
25. นักเรียนควรใช้อุปกรณ์ในข้อใดตัดผ้า
- มีด
  - เลื่อย
  - คัตเตอร์
  - ง. กรรไกร





26. ง. ช่างซ่อมเครื่องยนต์  
ถ้าด้ามไม้กวาดขนไก่หัก นักเรียนควรทำ  
อย่างไร  
ก. ทิ้งถังขยะ  
ข. ซ่อมแซม  
ค. ซื่อใหม่
27. ง. เก็บในห้องเก็บของ  
เศษวัสดุหมายถึงข้อใด  
ก. สิ่งของหรือวัสดุที่ไม่ใช้ประโยชน์แล้ว  
ข. สิ่งที่ใช้แล้วสิ้นเปลืองหรือหมดไป  
ค. สิ่งของที่ต้องใช้กับงานต่างๆ
28. ง. สิ่งที่ประดิษฐ์ใช้เอง  
ก๊วกก็ใช้หนังจะเข้ามาประดิษฐ์เป็นกระเป๋า  
แสดงว่าก๊วกก็ถือกวัดสุดตรงกับข้อใด  
ก. แข็งแรง  
ข. ราคาถูก  
ค. ประหยัด
29. ง. หาได้ยาก  
การเก็บรักษาอุปกรณ์ในการเย็บอย่างถูกวิธี  
และเป็นระเบียบ มีประโยชน์หลายอย่าง  
ยกเว้นข้อใด  
ก. ทำให้งานมีความสวยงามประณีต  
ข. เมื่อต้องการใช้หยิบหาง่าย  
ค. มีอายุการใช้งานนานขึ้น  
ง. ลดอันตรายที่จะเกิดขึ้น
30. ถ้านักเรียนต้องการประดิษฐ์ของขวัญ  
ให้เพื่อน ควรให้ในโอกาสต่อไปนี้  
ยกเว้น ข้อใด  
ก. งานวันเกิด  
ข. งานขึ้นบ้านใหม่  
ค. งานศพ  
ง. งานแต่งงาน
31. ข้อใดเกี่ยวข้องกับธุรกิจการเกษตร  
ก. ธนาคาร  
ข. ลูกชมทำไร่ข้าวโพด  
ค. โรงงานผลิตอาหารกระป๋อง  
ง. บริษัทรับเหมาร้างถนน
32. การออมทรัพย์ช่วยปลูกฝังนิสัยในข้อใด  
ก. ความขยัน  
ข. ความอดทน  
ค. ความซื่อสัตย์  
ง. ความประหยัด
33. ข้อใดแสดงว่าสินค้ามีคุณภาพ  
ก. เครื่องหมายมาตรฐานสินค้า  
ข. ฉลากบอกส่วนผสม  
ค. ฉลากบอกชื่อสินค้า  
ง. ป้ายบอกราคา
34. ข้อใดเป็นปัจจัยสำคัญในการเลือกซื้อ  
สินค้าและบริการ  
ก. การศึกษา  
ข. รายได้  
ค. เพศ  
ง. อายุ

35. ผู้ยกเลิกประดิษฐ์ถุงผ้าใส่ของแทนการซื้อถุงกระดาษ เป็นกระบวนการเทคโนโลยีในขั้นใด
- ก. ลงมือปฏิบัติ
  - ข. หาสาเหตุ
  - ค. หาวิธีแก้ปัญหา
  - ง. เลือกวิธีที่ดีที่สุด
36. การออกแบบในข้อใด ควรเน้นเรื่องประโยชน์ใช้สอยมากที่สุด
- ก. ไม้แขวนเสื้อ
  - ข. ตุ๊กตา
  - ค. สร้อยคอ
  - ง. เครื่องเงิน
37. ข้อใดจัดเป็นข้อมูลตัวอักษร
- ก. เกรดเฉลี่ย
  - ข. ภาพวาด
  - ค. บัตรประชาชน
  - ง. เสียงวิทยุ

38. ข้อใดไม่ใช่แหล่งข้อมูลทุติยภูมิ

- ก. วารสาร
- ข. เจ้าหน้าที่พิพิธภัณฑ์
- ค. ตำราวิชาการ
- ง. อินเทอร์เน็ต

39. ข้อใดเป็นปุ่มที่ใช้ในการยกเลิกคำสั่ง

- |   |  |
|---|--|
| ก.  | ข.  |
| ค.  | ง.  |

40. เมื่อคอมพิวเตอร์รับข้อมูลแล้ว จะส่งข้อมูลต่อมาที่ส่วนใด

- ก. เมมส์
- ข. แป้นพิมพ์
- ค. ซีพียู
- ง. จอภาพ

