


ข้อสอบพัฒนาทักษะการคิดวิเคราะห์

กลุ่มสาระการเรียนรู้ การงานอาชีพและเทคโนโลยี ชั้นประถมศึกษาปีที่ 3

หน่วยที่ 7 เทคโนโลยีสารสนเทศ

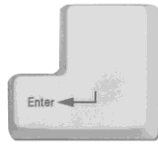
จำนวน 10 ข้อ

จงกา X ทับตัวอักษรตรงกับตัวเลือกที่ต้องการลงในกระดาษคำตอบ

- ข้อใดเป็นข้อมูลที่เป็นตัวเลข
 - ราคาสินค้า
 - หมายเลขโทรศัพท์
 - ภาพถ่าย
 - บ้านเลขที่
- ข้อใดเป็นแหล่งข้อมูลปฐมภูมิ
 - ค้นหาข้อมูลจากหนังสือพิมพ์ต่างๆ
 - ขุนอ่านข้อมูลจากตำราวิชาการ
 - พิมพ์เข้าร่วมการประชุม เพื่อนำไปเขียนข่าว
 - เงินใช้เอกสารการวิจัยมาทำรายงาน
- การคิดรายรับ – รายจ่าย ประจำเดือน ควรใช้วิธีการประมวลผลแบบใด
 - เรียงลำดับ
 - คำนวณ
 - หาค่าเฉลี่ย
 - เปรียบเทียบ
- ทะเบียนรถยนต์ จัดเป็นข้อมูลประเภทใด
 - ข้อมูลภาพ
 - ข้อมูลเสียง
 - ข้อมูลตัวเลข
 - ข้อมูลตัวอักษร
- ข้อใดไม่ใช่ประโยชน์ของข้อมูล
 - ช่วยในการตัดสินใจ
 - ช่วยให้ติดต่อสื่อสารง่าย
 - ช่วยให้ทราบข้อมูลที่แท้จริง
 - ช่วยในการวางแผน
- คอมพิวเตอร์ใช้ข้อใดในการแสดงผลทั้งหมด
 - ซีพียู และจอภาพ
 - เมาส์ และซีพียู
 - แป้นพิมพ์ และเมาส์
 - จอภาพ และเครื่องพิมพ์
-  มีการทำงานอย่างไร
 - ลบตัวอักษรทางขวา
 - ยกเลิกคำสั่ง
 - เลื่อนตัวชี้
 - ป้อนคำสั่ง

8. ถ้าต้องการเลือกอักขรตัวบนคอร์ดปุ่มใด

ก.



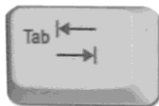
ข.



ค.



ง.



9. ถ้าต้องการปิดเครื่องให้กดค่าใด

ก. Shut Down

ข. Log off

ค. Restart

ง. Settings

10. ข้อใดไม่ใช่ส่วนประกอบของฮาร์ดแวร์

ก. ซีพียู

ข. แป้นพิมพ์

ค. เครื่องพิมพ์

ง. โปรแกรม